



NOMBRE.....

.CUR

APELLIDOS.....

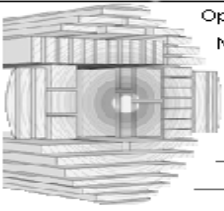


Unidad didáctica nº: 7 Madera

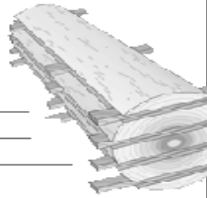
**ACTIVIDAD Nº1.**

I. Observa las siguientes imágenes. Como puedes ver, corresponden al proceso de obtención de maderas en bruto, pero están desordenadas. Numera las viñetas según el orden correcto de este proceso, nombra la operación a la que corresponde cada una de ellas y explica brevemente en qué consisten.


Operación n.º \_\_\_\_  
 Nombre: \_\_\_\_\_  
 Consiste en: \_\_\_\_\_  
 \_\_\_\_\_  
 \_\_\_\_\_




Operación n.º \_\_\_\_  
 Nombre: \_\_\_\_\_  
 Consiste en: \_\_\_\_\_  
 \_\_\_\_\_  
 \_\_\_\_\_




Operación n.º \_\_\_\_  
 Nombre: \_\_\_\_\_  
 Consiste en: \_\_\_\_\_  
 \_\_\_\_\_  
 \_\_\_\_\_




Operación n.º \_\_\_\_  
 Nombre: \_\_\_\_\_  
 Consiste en: \_\_\_\_\_  
 \_\_\_\_\_  
 \_\_\_\_\_




Operación n.º \_\_\_\_  
 Nombre: \_\_\_\_\_  
 Consiste en: \_\_\_\_\_  
 \_\_\_\_\_  
 \_\_\_\_\_



Operación n.º \_\_\_\_  
 Nombre: \_\_\_\_\_  
 Consiste en: \_\_\_\_\_  
 \_\_\_\_\_  
 \_\_\_\_\_

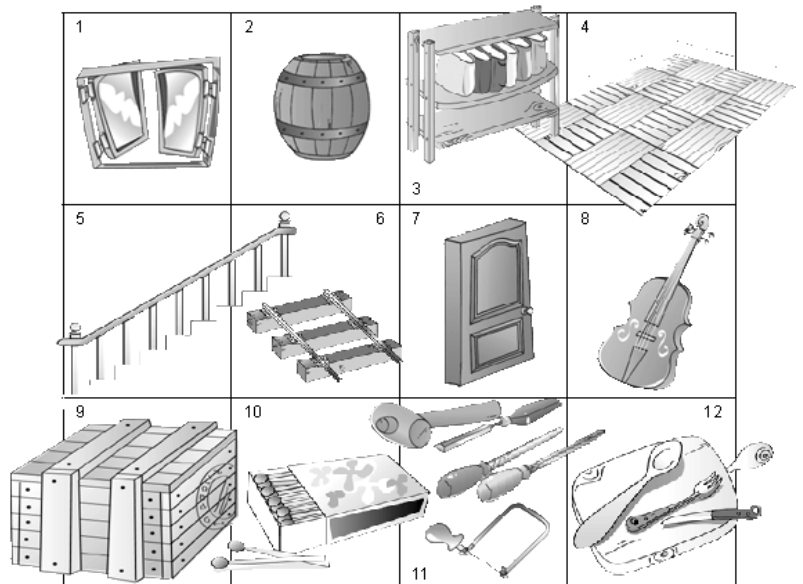


Operación n.º \_\_\_\_  
 Nombre: \_\_\_\_\_  
 Consiste en: \_\_\_\_\_  
 \_\_\_\_\_  
 \_\_\_\_\_



2. ¿Qué tipo de madera utilizarías para construir estos muebles u objetos? Indica por qué de acuerdo con sus propiedades:

1. Marco de ventana:
2. Tonel:
3. Estantería: .
4. Suelo de parqué:
5. Barandilla de escalera:
6. Traviesas de las vías ferreas:
7. Puerta:
8. Violín:
9. Caja de embalaje:
10. Cerillas:





NOMBRE.....

.CUR

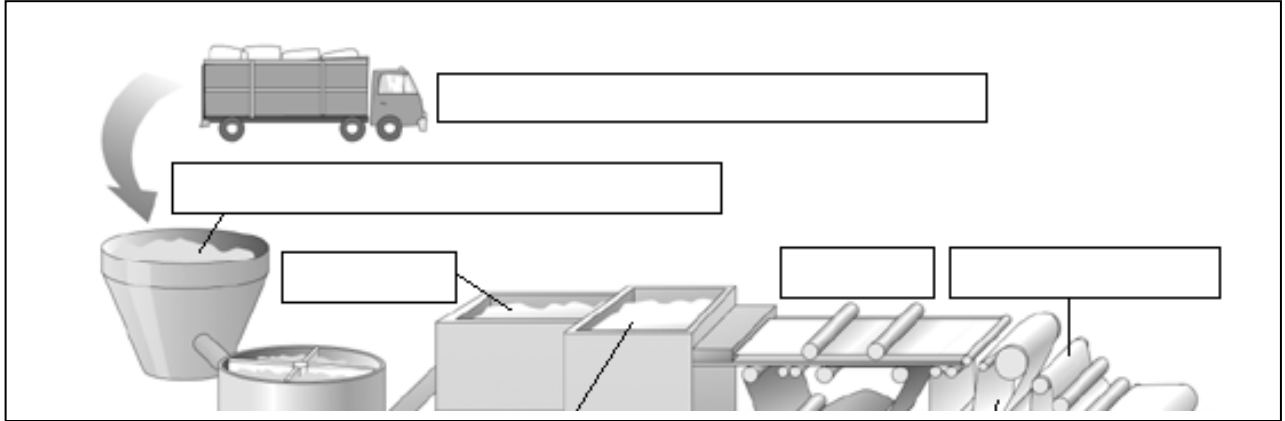
APELLIDOS.....




Unidad didáctica nº: 7 Madera

- 11. Mangos de herramientas:
- 12. Utensilios de cocina:

3. Completa los espacios en blanco identificando los pasos seguidos en el reciclado del papel:



4. ¿Cómo trazarías las siguientes piezas en el tablero de madera inferior para aprovechar al máximo el material?





NOMBRE.....

.CUR

APELLIDOS.....



Unidad didáctica nº: 7 Madera


### ACTIVIDAD Nº 2.

¿Qué normas de seguridad has de tener en cuenta en las siguientes operaciones de manipulación de la madera?


#### 1. Corte de la madera.



#### 2. Desbastado de la madera.



#### 3. Unión mediante clavado de la madera.




#### 4. Pegado de la madera.



#### 5. Pintado de la madera.



#### 6 Taladrado





NOMBRE.....

.CUR

APELLIDOS.....



Unidad didáctica nº: 7 Madera

### ACTIVIDAD Nº 3.

I. Realiza un mural que incluya los siguientes puntos:

- Efectos negativos de la tecnología en el medioambiente: deforestación y las posibles soluciones.



\* También puede llamarse **material industrial** o **material semielaborado**

